

N° IDENTIFICATION :

CONCOURS EXTERNE ET INTERNE 2024 POUR LE RECRUTEMENT D'AGENTS D'EXPLOITATION PRINCIPAUX DES TRAVAUX PUBLICS DE L'ETAT

Epreuve n° 2 : code de la route

Durée 25 minutes - Coefficient 1

Calculatrice et dictionnaire non autorisés

Tous les documents autres que ceux distribués sont interdits

Consignes aux candidats :

- Indiquer votre numéro d'identification dans le cadre ci-dessus prévu à cet effet
- Toutes les réponses devront être notées directement sur ce sujet
- Ce sujet est à insérer dans la copie double de composition avec coin gommé rabattable prévue à cet effet.

Barème : 1 point par question – **Plusieurs réponses possibles pour une même question**

Question 4 :

En agglomération, ce signal indique un risque de débouché de cyclistes à environ :

A : 50 mètres A ☐

B : 100 mètres B ☐

C : 150 mètres C ☐



Question 5 :

Sur autoroute, les panneaux de danger sont placés à plus de 150 mètres du danger signalé :

A : Oui A ☐

B : Non B ☐



Question 6 :

Cette balise indique :

A : un virage A ☐

B : une intersection B ☐

C : un passage à niveau C ☐



Question 7 :

Un véhicule équipé de ces feux arrières, signale :

A : un véhicule articulé A ☐

B : un véhicule qui n'est pas articulé B ☐

C : un véhicule plus long à dépasser C ☐




Question 8 :

Je peux rencontrer ces balises :

A : à l'approche d'un virage **A** ☐

B : à l'approche d'un obstacle **B** ☐

C : à l'approche d'un passage à niveau **C** ☐



Question 9 :

Que signifie ce panneau :

A : travaux **A** ☐

B : accident **B** ☐

C : bouchons **C** ☐



Question 10 :

La signalisation m'annonce :

A : une dénivellation de 10 m pour une distance de 400 m
A ☐

B : une dénivellation de 10 m pour une distance de 100 m
B ☐

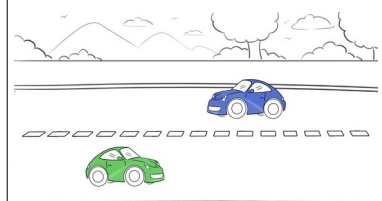


Question 11 :

Lors d'un croisement difficile pour 2 VL, la priorité s'exerce :

A : Au véhicule montant **A** ☐

B : Au véhicule descendant **B** ☐



Question 12 :

A l'arrière d'un véhicule, quelle est la longueur maximale que peut dépasser un chargement muni d'une signalisation réglementaire ?

A : 1 m **A** ☐

B : 1,5 m **B** ☐

C : 2 m **C** ☐

D : 3 m **D** ☐



Question 13 :

Dans un tunnel, pouvez-vous effectuer un demi-tour :

A : Oui **A** ☐

B : Non **B** ☐



Question 14 :

Ce panneau indique :

A : un début de bande d'arrêt d'urgence à droite **A** ☐

B : une voie de détresse à droite **B** ☐

C : une aire de repos à droite **C** ☐



Question 15 :

A l'abord d'une intersection, tout véhicule avec des feux à lumière bleue est prioritaire :

A : oui **A** ☐

B : non **B** ☐



Question 16 :

Ce panneau signifie une interdiction de dépasser pour les véhicules :

A : affectés au transport de marchandise **A** ☐

B : affectés au transport de marchandise de plus de 3,5 tonnes **B** ☐



Question 17 :

La bande d'arrêt d'urgence peut être utilisée pour :

A : répondre au téléphone **A** ☐

B : lire une carte routière **B** ☐

C : arrêter le véhicule en cas de panne **C** ☐



Question 18 :

Je circule, à vide, avec un véhicule de 5 tonnes de poids à vide et de 15 tonnes de PTAC.

Je peux emprunter cette route? :

A : oui **A** ☐

B : non **B** ☐



Question 19 :


Cette signalisation indique la fin :

A : d'une interdiction de klaxonner **A** ☐

B : d'une interdiction de dépasser **B** ☐

C : d'une interdiction de stationner **C** ☐

D : d'une limitation de vitesse **D** ☐



Question 20 :

Dans cette situation :

A : je ralentis **A** ☐

B : je serre à droite **B** ☐

C : je suis vigilant à la présence d'agents aux abords de la route **C** ☐



Question 21 :

Si la visibilité est réduite à moins de 50 mètres, la vitesse maximale autorisée est de :

A : 80 Km/h **A** ☐

B : 50Km/h **B** ☐

cette limitation s'applique :

C : sur route **C** ☐

D : sur autoroute **D** ☐



Question 22 :

Pour me rendre à BLASIMON, je tourne à droite :

A : avant le panneau **A** ☐

B : après le panneau **B** ☐



Question 23 :

Je cède obligatoirement le passage au véhicule venant de face :

A : vrai **A** ☐

B : faux **B** ☐



Question 24 :

A l'approche de cette signalisation, un véhicule venant en face engagé doit me céder la priorité :

A : vrai ☐

B : faux ☐



Question 25 :

Je suis le dernier d'une file à allure réduite sur autoroute :

A : je fais un appel de phares ☐

B : je klaxonne ☐

C : j'active mes feux de détresse ☐



Question 26 :

On peut utiliser ses feux de brouillard arrière par :

A : temps de pluie ☐

B : brouillard ☐

C : forte neige ☐



Question 27 :

Cette balise signale :

A : un virage ☐

B : un obstacle ☐

C : un cours d'eau ☐



Question 28 :

Le chargement extérieur d'un véhicule est limité :

A : en longueur **A** ☐

B : en largeur **B** ☐

C : en hauteur **C** ☐



Question 29 :

Le montage des pneus sur un même essieu doit :

A : être de même structure **A** ☐

B : être de même taille **B** ☐



Question 30 :

Hors agglomération, ce panneau de danger prend effet à :

A : 1 km **A** ☐

B : 150 m **B** ☐

C : au droit du panneau **C** ☐



Question 31 :

Cette balise signale :

A : un virage en montagne **A** ☐

B : une intersection **B** ☐

C : un virage et une intersection **C** ☐



Question 32 :

Dans cette configuration (photo), le dépassement du cycliste est-il autorisé ?

A : oui **A** ☐

B : non **B** ☐



Question 33 :

Par temps de pluie, je mets en fonction :

A : les feux de détresse **A** ☐

B : les feux de croisement **B** ☐

C : les feux diurnes **C** ☐



Question 34 :

Sur les lieux d'un accident avec un blessé, l'ordre des opérations de secours est :

A : alerter, protéger, secourir **A** ☐

B : protéger, alerter, secourir **B** ☐

C : alerter, secourir, protéger **C** ☐




Question 35 :

Sur une route à accès réglementé, la vitesse maximale par temps de pluie est de :

A : 80 Km/h **A** ☐

B : 90 Km/h **B** ☐

C : 100 Km/h **C** ☐



Question 36 :

Le panneau de basculement de la circulation d'une chaussée sur l'autre :

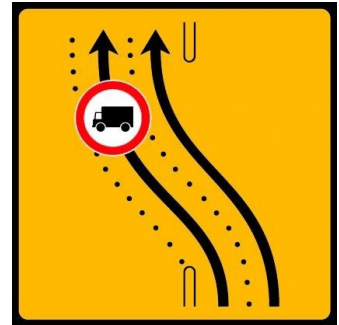
A : s'applique à une seule voie **A** ☐

B : s'applique aux deux voies **B** ☐

Les véhicules de transport de marchandises seront autorisés à circuler sur la voie de gauche

C : oui **C** ☐

D : non **D** ☐



Question 37 :

La vitesse peut être limitée en cas de pollution :

A : vrai **A** ☐

B : faux **B** ☐

Je peux être verbalisé en cas de non respect de la limitation :

C : vrai **C** ☐

D : faux **D** ☐



Question 38 :

Le panneau de droite indique :

A : une circulation à double sens **A** ☐

B : une circulation alternée **B** ☐



Question 39 :

A l'approche d'un véhicule de type fourgon équipé de feux bleus à éclats de la direction des Routes (DIR) :

je dois lui faciliter le passage :

A : vrai A ☐

B : faux B ☐

fait-il partie des véhicules prioritaires? :

C : vrai C ☐

D : faux D ☐



Question 40 :

Titulaire de mon permis B :

A : je peux tracter une remorque de 550 Kg de PTAC A ☐

B : je peux tracter une remorque de 800 Kg de PTAC B ☐

